



2016

**BALISE VERTE**

Direction Technique Nationale

1. Observe bien le paysage ci dessous (2 points)

pts

PAYSAGE

CARTE

Après avoir bien observé le paysage, tu dois disposer les 2 maisons et les 3 arbres et la clôture sur la carte à droite en utilisant la légende.

2. Tu dois savoir orienter ta carte. En courant, tu trouves ce paysage devant toi. Observe le bien. Entoure la lettre de la carte qui est bien orientée par rapport au paysage. (2 points)

pts



A
B
C
D

3. De quelle couleur est représenté un arbre isolé ou particulier sur la carte? (1 point)

pts


\_\_\_\_\_

4. Relie le symbole à sa couleur (2 points)

- |          |   |         |
|----------|---|---------|
| RUISSEAU | • | • JAUNE |
| SOUCHE   | • | • BLEU  |
| RUINE    | • | • VERT  |
| CHAMP    | • | • NOIR  |

pts









5. Donne la définition de ce symbole : (1 point)

	<input type="checkbox"/> Puits - fontaine <input type="checkbox"/> Ruisseau <input type="checkbox"/> Source
---	---

pts

6. Relie par un trait le symbole à sa définition (4 points)

pts

- |   |   |                     |
|---|---|---------------------|
|    | • | • RUINE             |
|    | • | • BORNE             |
|    | • | • CHEMIN            |
|    | • | • OBJET PARTICULIER |
|   | • | • ARBRE             |
|  | • | • BATIMENT - MAISON |
|  | • | • CHAMP             |
|  | • | • CLOTURE           |

7. Si tu abandonnes sur ton circuit que dois tu faire obligatoirement ? Coche la bonne réponse (1 point)

pts

- Je rentre à la tente de mon club, je bois et je mange mon sandwich
- Je passe à la tente arrivée et je vide mon doigt électronique
- Je passe la ligne d'arrivée mais je ne vide surtout pas mon doigt électronique

8. Reporte sur la carte à droite les balises figurant sur la photo aérienne. (3 points)

pts

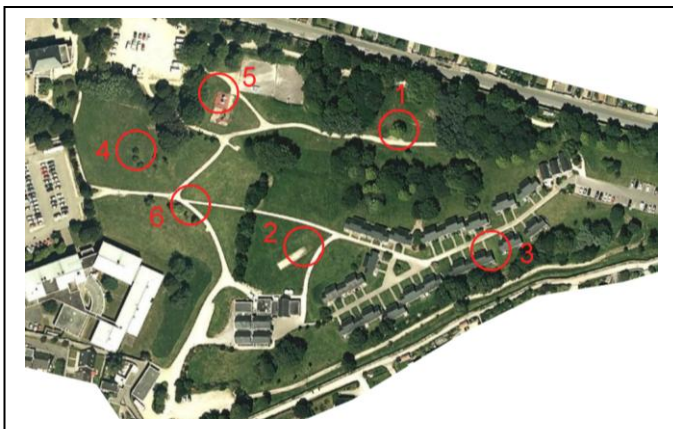


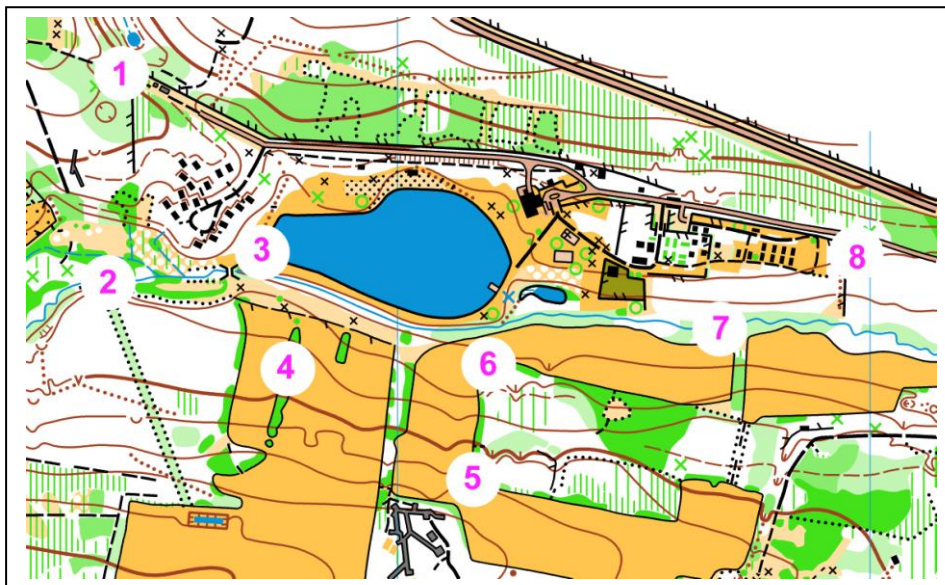
PHOTO AERIENNE



CARTE

9. Replace les pièces du puzzle à la bonne place en reportant le chiffre à côté de la lettre. (2 points)

pts



A =



B =



C =



D =



E =



F =



G =



H =

10. **Dictée'O** : Essaie de trouver l'emplacement des 2 balises réalisées par cet orienteur en lisant ce qu'il raconte. Quand tu trouves l'emplacement du poste, entoure l'élément sur lequel se trouve la balise et marque son numéro. Je te conseille d'orienter la carte comme si tu la lisais en course (2 points)

pts

"Je suis au triangle de départ. Au top départ, je prends le chemin indiqué par la pointe du triangle. A la première jonction je prends le chemin de gauche, je passe à côté d'une zone déboisée sur la gauche et j'arrive à une intersection que je passe en allant tout droit. J'arrive rapidement à une limite de végétation située sur ma droite que je suis jusqu'à son angle où je trouve ma première balise située à côté d'une borne. Dès que j'ai poinçonné ma balise, je continue à suivre la limite de végétation afin d'aller jusqu'au chemin situé à l'Est. Une fois sur le chemin, je le prends sur ma gauche et je le suis en passant une première jonction et j'atteins immédiatement une seconde jonction où je tourne à gauche. Je continue rapidement sur chemin jusqu'à la prochaine jonction où je tourne à droite. Je longe une zone déboisée sur ma gauche jusqu'à la limite de végétation que je décide de suivre jusqu'à son angle. J'aperçois alors ma seconde balise située à côté d'une maison en ruine."

